




1

バナナが 13ぼん あります。7ひきの さるに 1ほんずつ
あげると バナナは なんぼん ありますか。



しき

こたえ

2

へやの なかに いすが 8つ ありますが、ひとは 11にん
います。すわれない ひとは なんにんに なりますか。

しき

こたえ

3

12にんの こどもに あめを 1つずつ くばります。あめは、
5こ あります。あめは、いくつ たりませんか。

しき


こたえ





1

ケーキが 11こ あります。7にんの おうさまに 1こずつ
あげると ケーキは なんこ あまりますか。



しき

こたえ

2

へやの なかに いすが 6つ ありますが、ひとは 12にん
います。すわれない ひとは なんにんに なりますか。

しき

こたえ

3

15にんの こどもに あめを 1つずつ くばります。あめは、
9こ あります。あめは、いくつ たりませんか。

しき


こたえ





1

チーズが 12こ あります。9ひきの ねずみさんに 1こずつ
あげると チーズは なんこ ありますか。



しき

こたえ

2

へやの なかに いすが 8つ ありますが、ひとは 14にん
います。すわれない ひとは なんにんに なりますか。

しき

こたえ

3

13にんの こどもに あめを 1つずつ くばります。あめは、
7こ あります。あめは、いくつ たりませんか。

しき


こたえ





1

9にんの おんなのこが みかんを 1つずつ たべます。みかんは、
あと 4こ あります。みかんは、ぜんぶで なんこ ありますか。



しき

こたえ

2

8にんの こどもに あめを 1こずつ くばりました。あめを
もらっていない こどもは、6にんでした。あめは ぜんぶで
なんこ ありますか。

しき

こたえ

3

いすに 7にん すわっています。あいている いすは、8つ
あります。いすは ぜんぶで いくつ ありますか。

しき


こたえ





1

6にんの おとこのこに ノートを 1さつずつ くばります。
ノートは あと 5さつ あります。ノートは、ぜんぶで なんさつ
ありますか。



しき

こたえ

2

7にんの こどもに あめを 1こずつ くばりました。あめを
もらっていない こどもは、8にんでした。こどもは ぜんぶで
なんにん いますか。

しき

こたえ

3

いすに 9にん すわっています。あいている いすは、7つ
あります。いすは ぜんぶで いくつ ありますか。

しき


こたえ





1

7にんの おんなのこが みかんを 1つずつ たべます。みかんは、
あと 5こ あります。みかんは、ぜんぶで なんこ ありますか。



しき

こたえ

2

6にんの こどもに あめを 1こずつ くばりました。あめを
もらっていない こどもは、7にんでした。こどもは ぜんぶで
なんにん いますか。

しき

こたえ

3

いすに 8にん すわっています。あいている いすは、8つ
あります。いすは ぜんぶで いくつ ありますか。

しき

こたえ





1

かけっこをしています。かつきさんは まえから 6ばんめを
はしっています。かつきさんの まえには、なんにん はしって
いますか。



こたえ

2

ゆうえんちで ならんでいる くるまに ひとりずつ のります。
かなよさんの まえには 8にん ならんでいます。かなよさんは、
なんばんめの くるまに のりますか。



こたえ

3

1から じゆんに、すうじが かかれた カードを ならんでいる
れつの まえから じゆんばんに 1まいずつ くばります。
さとしくんが もらった カードは、8でした。さとしくんの
まえには、なんにん ならんで いますか。



こたえ





1

かけっこをしています。かつきさんは まえから 9ばんめを
はしっています。かつきさんの まえには、なんにん はしって
いますか。



こたえ

2

ゆうえんちで ならんでいる くるまに ひとりずつ のります。
かなよさんの まえには 7にん ならんでいます。かなよさんは、
なんばんめの くるまに のりますか。



こたえ

3

1から じゆんに、すうじが かかれた カードを ならんでいる
れつの まえから じゆんばんに 1まいずつ くばります。
さとしくんが もらった カードは、7でした。さとしくんの
まえには、なんにん ならんで いますか。



こたえ

