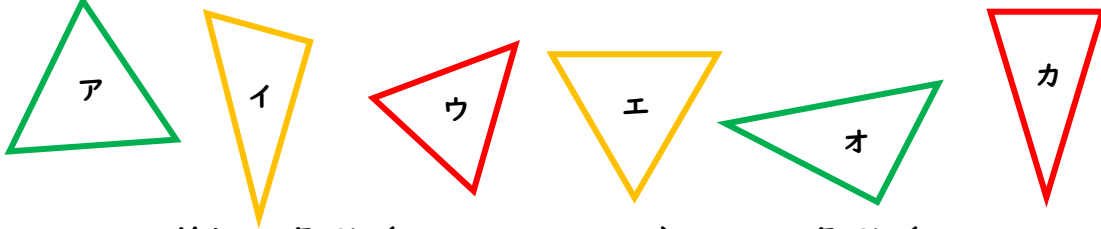


□□1

コンパスを使って、二等辺三角形と正三角形をみつけて、記号で答えましょう。





二等辺三角形 (                      )    正三角形 (                      )

□□2

コンパスとじょうぎを使って、三角形をかきましょう。

- ① 辺の長さが 4 cm、3 cm、3 cm      ② 辺の長さが 3 cm の正三角形。  
の二等辺三角形。



□□3

半径 2 cm の円を使って、次の三角形をかきましょう。

- ① 辺の長さが 2 cm、2 cm、3.5 cm      ② 辺の長さが 2 cm の正三角形。  
の二等辺三角形。

