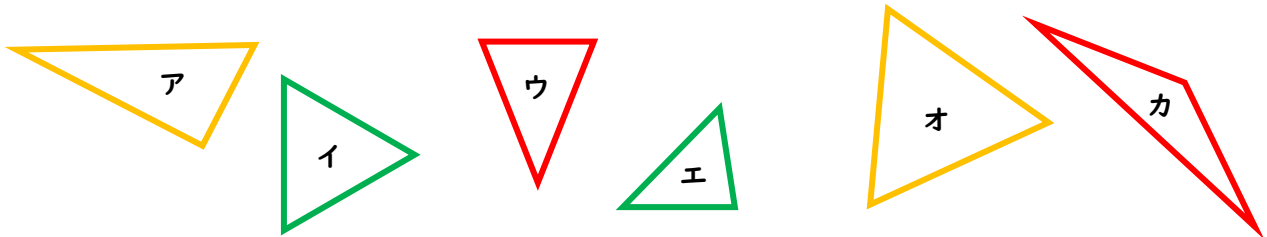


□□1

コンパスを使って、二等辺三角形と正三角形をみつけて、記号で答えましょう。





二等辺三角形 () 正三角形 ()

□□2

コンパスとじょうぎを使って、三角形をかきましょう。

- ① 辺の長さが5 cm、3 cm、3 cm ② 辺の長さが4 cmの正三角形。

の二等辺三角形。



□□3

半径2 cmの円を使って、次の三角形をかきましょう。

- ① 辺の長さが2 cm、2 cm、3 cm ② 辺の長さが2 cmの正三角形。

の二等辺三角形。

